

Kimika Organiko Aurreratua

Hasiera / Nire ikastaroak / Graduko Ikasketak / 20200_125_GFARMA10_25262_31 / Atalak / Ebaluazioa / Test-Proba Azaroak 10

2. galdera

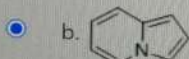
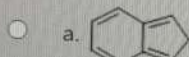
Erantzun gabea

Gehienezko
1,00-(e)tik
kalifikatuta

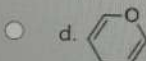
Markatu
galdera

Konposatu hauen artean zein da aromatikoa?

Aukeratu bat:



c. Hauen artean, bat ere ez



Aurreko orria

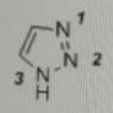
Hurrengo orria

Kimika Organiko Aurreratua

Hasiera / Nire ikastaroak / Graduko Ikasketak / 20200_125_GFARMA10_25262_31 / Atalak / Ebaluazioa / Test-Proba Azaroak 10

1 galdera
Erantzuna gorde da
Gehienezko 1,00-(e)tik kalifikatuta
Markatu galdera

Zer nitrogenoren elektroi-bikote bakarti desleketzen da ziklo aromatiko honetan?



Aukeratu bat:

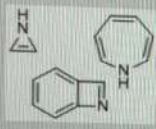
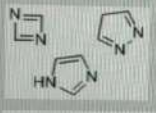
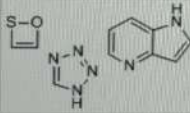
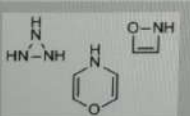
- a. 3
- b. 2
- c. 1
- d. Hauen artean, bat ere ez

Hurrengo orria

3 galdera
Erantzun gabea
Gehieneko
1,00-(e)tik
kalifikatuta
Markatu
galdera

Ondoko multzo bateko osagai guztiak aromatikoko dira.

Aukeratu bat:

- a. 
- b. 
- c. 
- d. 

Galdeteg
nabigazi

1	2
3	4

Aratu saioa
Geratzen den
0:06:37

Hurrengo orria

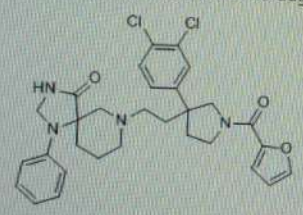
Aurreko orria

Kimika Organiko Aurreratua

Hasiera / Nire ikastaroak / Graduako Ikasketak / 20200_12S_GFARMA10_25262_31 / Atalak / Ebaluazioa / Test-Proba Azaroak 10

4 galdera
Erantzun gabea
Gehienezko
1,00-(e)tik
kalifikatuta
Markatu
galdera

Zenbat heteroziklo aromatikoko dago molekula honetan?



Aukeratu bat:

- a. 4
- b. 3
- c. 1
- d. 2

Aurreko orria

Hurrengo orria



Kimika Organiko Aurreratua

Hasiera / Nire ikastaroak / Graduko Ikasketak / 20200_125_GFARMA10_25262_31 / Atalak / Ebaluazioa / Test-Proba Azaroak 10

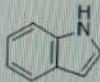
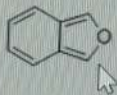
5. galdera

Erantzun gabea

Gehienezko
1,00-(e)tik
kalifikatuta

Markatu
galdera

Hurrengo konposatu hauek:



Aukeratu bat:

- a. Heteroziklo ez aromatikoa da
- b. Heteroziklo aromatikoa da
- c. Heteroziklo antiaromatikoa da
- d. Heteroziklo aromatikoa da

Aurreko orria



6 galdera
Erantzun gabea
Gehienezko
1,00-(e)tik
kalifikatuta
Markatu
galdera

Zein da piridinaren egitura zuzena? (Piridina aromatikoa da)



Aukeratu bat:

- a.
- b.
- c.
- d.



Kimika Organiko Aurreratua

Hasiera / Nire ikastaroak / Graduako Ikasketak / 20200_125_GFARMA10_25262_31 / Atalak / Ebaluazioa / Test-Proba Azaroak 10

7 galdere

Erantzun gabea

Gehieneko
1,00-(e)tik
kalifikatuta

Markatu
galdera

Konposatu hauen artean zein da π -urria?

Aukeratu bat:

- a. C1=CN=C1
- b. C1=CCOC1
- c. C1=CN=CNC1
- d. C1=NC=NC=C1

Aurreko orria

Hurrengo orria

8 galdere
Erantzun gabea
Gehienezko
1,00-(e)tik
kalifikatuta
Markatu
galdera

Zein da oxazolaren egitura zuzena? (oxazola aromatikoa da)



Aukeratu bat:

- a.
- b.
- c.
- d.




Kimika Organiko Aurreratua

Hasiera / Nire ikastaroak / [Graduko Ikasketak](#) / [20200_125_GFARMA10_25262_31](#) / [Atalak](#) / [Ebaluazioa](#) / [Test-Proba Azaroak 10](#)

9 galdera
Erantzun gabea
Gehieneko
1,00-(e)tik
kalifikatuta.
Markatu
galdera

Konposatu hauen artean zein da π -soberaduna?

Aukeratu bat:

- a. Hauen artean, bat ere ez
- b. 
- c. 
- d. 

Aurreko orria

Amaitu saiakera...